

Total Marks 200

502

**HINDI**  
(English Medium)

Category

**A**

502-HINDI

**A50200231**

SEAL SEAL SEAL SEAL SEAL SEAL

Seat No. of the Candidate

--	--	--	--	--	--	--	--

Block No. of the Candidate

--

Signature of the Candidate

--

Signature of the Block Supervisor

--

**Important Instructions for Candidates**

- (1) Please do not open the question booklet until you are told to do so.
- (2) During examination, if a candidate is found having any literature guide, guide, piece of paper, handwritten or printed paper, mobile phone, calculator, spy camera, headphone or any other equipments then the candidate will be considered as disqualified.
- (3) During the examination if candidates are found conversing with each other, making noise or not following supervisor's instructions then they will be considered as disqualified.
- (4) After receiving question paper please write your seat number in **OMR SHEET** at the correct given place.
- (5) Please do not write your seat number at any other place than the allotted one in the **OMR SHEET** and if any sign of your identity or recognition is found then you will be considered totally disqualified for the examination.
- (6) Signatures of both the supervisor and the candidate in the certificate of **OMR SHEET** are compulsory without which **OMR SHEET** will not be evaluated, so it is compulsory for the candidate to get signature of the supervisor.
- (7) Candidates can use blue/black ball pen. They cannot use pens or pencils of any other colour and also whitener.
- (8) No marks should be made on any of the options in the question paper.
- (9) There are total 200 questions in this question paper. There is only one answer to each question from the options A, B, C and D. Four options are given for each question. All the questions are compulsory.  
Example: What is the capital of Gujarat?  
(A) Ahmedabad (B) Gandhinagar (C) Vadnagar (D) Patan  
Here, if option (B) Gandhinagar is correct then option (B) in the **OMR SHEET** will have to be darkened with pen. (A) ● (B) ● (C) ● (D) ●
- (10) One(1) mark is allotted to each correct answer. For each wrong answer 0.25 marks will be deducted. If a candidate does not want to answer any question then he/she will have to select option E. Negative marking will not be applicable for option E.
- (11) Cross marked answers, answers given on more than one option and answers re-marked after use of blade, eraser or whitener will be given **Negative 0.25 marks.**
- (12) Please hand over the **OMR SHEET** to the block supervisor after completion of examination before leaving the classroom. Any candidate failing to do so will be considered as disqualified for the examination.
- (13) Maximum time allotted for the examination is 180 minutes.
- (14) Most appropriate option will be considered as answer of the question.

- (1) How many Indian languages have been declared endangered by UNESCO  
(A) 195 (B) 196 (C) 189 (D) 197
- (2) The National Education Policy (NEP) 2020, integrates \_\_\_\_ to root education in ancient knowledge of India and its contribution in modern India.  
(A) Knowledgeable India (B) Indian Knowledge System  
(C) Modern India (D) Ancient India
- (3) The full form of PARAKH is \_\_\_\_\_.  
(A) Private Assessment, Report and Analysis of Knowledge for Holistic  
(B) Performance Assessment, Review and Analysis of Knowledge for Holistic development  
(C) Performance Assistant, Review and Analysis of knowledge for Holistic development  
(D) Personal Assistant, Review and Analysis of Knowledge for Holistic development.
- (4) A scientist of Indian origin who made groundbreaking contribution in the study of DNA was \_\_\_\_\_.  
(A) Radha Krushnan (B) Amartya Sen  
(C) Hargovind Khurana (D) Dr. A.P.J. Abdul Kalam
- (5) The Three Tier Panchayati Raj System was recommended by \_\_\_\_\_.  
(A) Mactapl Committee (B) British Committee  
(C) Sevak Committee (D) Balwantrai Mehta Committee
- (6) Commonwealth Games were previously known as \_\_\_\_\_.  
(A) European Games (B) Euro – Asian Games  
(C) Common Games (D) British Empire Games
- (7) Who appoints CAG?  
(A) Prime Minister (B) President  
(C) Vice-President (D) Chief – Minister
- (8) The battle between Porus and Sikander was fought on the bank of \_\_\_\_\_ river.  
(A) Chenab (B) Ravi  
(C) Satluj (D) Jhelum

- (9) "Who among the following reigned during the Anno Domini Period?"
- (A) Chandragupt Maurya (B) King Ashok  
(C) Khilji Dynasty and Tughlaq Dynasty (D) Bindusara
- (10) \_\_\_\_\_ is the most renowned form of dance of Maharashtra.
- (A) Ghumar (B) Kalbeliya  
(C) Kachhighodi (D) Laavani
- (11). \_\_\_\_\_ was invented by Michael Faraday?
- (A) Penicillin  
(B) Periodic Table  
(C) Precious Metal - Radium  
(D) Conversion of Kinetic Energy into Electric energy
- (12) \_\_\_\_\_ among the following was written by Manubhai Pancholi (Darshak)
- (A) Upanas (B) Socrates  
(C) Anunay (D) Hayaati
- (13) Anup Kumar is a renowned \_\_\_\_\_ player.
- (A) Kho - Kho (B) Kabaddi  
(C) Cricket (D) Football
- (14) \_\_\_\_\_ was Suggested by Swami Vivekanand to Promote nationalism in India.
- (A) Pride of the nation  
(B) Public awareness and upliftment of the poor  
(C) Inclusive Vision  
(D) Cultural Pride
- (15) \_\_\_\_\_ is not a renewable energy resource.
- (A) Forest (B) Wind  
(C) Natural Gas (D) Sunlight

- 16) \_\_\_\_\_ was considered as the "Soul of Indian constitution" by Dr. B. R. Ambedkar.
- (A) Right to Education  
(B) Cultural and Educational Right  
(C) Right to go against exploitation  
(D) Right to the Constitutional Remedies
- (17) Panchayati Raj Institutions came to exist on \_\_\_\_\_ in Gujarat.
- (A) 1st May, 1960 (B) 20th April, 1993  
(C) 15th August, 1947 (D) 1st April, 1963
- (18) \_\_\_\_\_ is not founded by the Government to implement the recommendations of Mudaliar Commission 1953.
- (A) Rural Higher Education Committee  
(B) University Grants Commission  
(C) All India Education Council  
(D) All India Council of Sports
- (19) Astronaut Sunita Williams has an ancestral link with \_\_\_\_\_.
- (A) Karnal, Haryana (B) Vadodara, Gujarat  
(C) Mahesana, Gujarat (D) Kurukshetra, Haryana
- (20) \_\_\_\_\_ hosted the Kabaddi World Cup 2025.
- (A) India (B) England  
(C) South Korea (D) Malaysia
- (21) Open and Distance Learning (ODL) is included in \_\_\_\_\_ education.
- (A) Formal (B) Informal  
(C) Non-formal (D) None of the above
- (22) "I never teach my pupils; I only attempt to provide the conditions in which they can learn" who quoted it?
- (A) Maharshi Arvind (B) Albert Einstein  
(C) Pestology (D) Eric Crome

- (23) "A person must use the development of his individuality by aligning it to the social needs and ideals. This is \_\_\_\_\_ aim of education.
- (A) an Individual (B) a Social  
(C) a Peculiar (D) a Sovereign
- (24) \_\_\_\_\_ described education as a tri-polar process consisting of the teacher the learner the social environment or syllabus as a third pole".
- (A) John Dewey (B) John Adams  
(C) Herbert Spencer (D) Benjamin S. Bloom
- (25) Idealism is also known as \_\_\_\_\_.
- (A) Idealism (B) Realism  
(C) Naturalism (D) Pragmatism
- (26) John Dewey, Kilpatrick, and Mahatma Gandhi advocated \_\_\_\_\_.
- (A) Existentialism (B) Naturalism  
(C) Idealism (D) Pragmatism
- (27) Social and National Integration can be attained through \_\_\_\_\_.
- (A) Joint Family (B) Requirement of Food  
(C) Democracy (D) Population growth
- (28) What kind of education enables human to utilize free time more joyful and productive activities?
- (A) Non-formal Education  
(B) Continuing Education  
(C) Life-long Education  
(D) Education through correspondence
- (29) The cultural objective of education emphasizes on \_\_\_\_\_.
- (A) to enrich a person with knowledge  
(B) to inculcate ideals and morals in life  
(C) to Transfer Knowledge, Art, Literature, Music from generation to generation.  
(D) to enable a person to earn livelihood

- (30) "Human bears the competency of adapting to the situation and adapting one's needs to the situation" \_\_\_\_ form of pragmatism supports it.
- (A) Nominalistic Pragmatism (B) Experimental Pragmatism  
(C) Biological Pragmatism (D) Humanistic Pragmatism
- (31) A person with IQ score 100, is placed in \_\_\_\_ category.
- (A) Average Intelligence (B) High Intelligence  
(C) Lower Intelligence (D) Superior Intelligence
- (32) \_\_\_\_ type of Psychological conflict do Students Face when they neither want to stay at home nor go to school?
- (A) Approach – Avoidance (B) Approach – Approach  
(C) Avoidance – Avoidance (D) Dual Approach Avoidance
- (33) A Psychologist who believed that "Motivation is cyclic"
- (A) Lipid (B) C.T. Morgan  
(C) Lewin (D) Emilicuma
- (34) Which test is used to detect mental retardation among children?
- (A) Achievement Test (B) Reading Test  
(C) Through General Observation (D) Intelligence Test
- (35) The full form of GATB is \_\_\_\_.
- (A) Great Attitude Test Box  
(B) Global Attitude Test Book  
(C) Global Aptitude Test Book  
(D) General Aptitude Test Battery
- (36) \_\_\_\_ is placed the first among eight stages of Robert Gagne's approach.
- (A) Stimulus – Response Approach  
(B) Verbal – Association Approach  
(C) Problem – Solving Approach  
(D) Chaining Approach

- (37) "Trial and Error Principle" of Thorndike is known as \_\_\_\_\_.  
(A) Stimulus – Response Approach  
(B) Theory of operant conditioning  
(C) Cognitive Learning Theory  
(D) Principle of motivation
- (38) After fulfilling basic Physiological need, the next level in Maslow's Hierarchy of needs is \_\_\_\_\_.  
(A) Love and Belongingness  
(B) Esteem Needs  
(C) Self – Actualization needs  
(D) Safety Needs
- (39) The measurement of intelligence was first successfully introduced by \_\_\_\_\_.  
(A) Garrett and Menttest  
(B) Binet and Simon  
(C) Crow and Crow  
(D) Thurston and Speareman
- (40) The learning graph remains extended and horizontal during \_\_\_\_ temporary stage.  
(A) Learning  
(B) Maturity  
(C) Plateau  
(D) End
- (41) To counsel a student towards the most suitable field of learning and future profession, educator usually rely on \_\_\_\_ test.  
(A) Intelligence Test  
(B) Personality Measurement Test  
(C) Aptitude Test  
(D) Diagnostic Test
- (42) To enable a student to develop their creativity fully and completely, maximum importance should be given to \_\_\_\_\_.  
(A) Process  
(B) Idea  
(C) Excellence  
(D) Creativity
- (43) While framing the teaching method in curriculum development, \_\_\_\_\_ state of students require prior consideration.  
(A) Mental  
(B) Physical  
(C) Emotional  
(D) Holistic

- (44) \_\_\_\_\_ is Pre-requisite in order to promote concentration in Students.  
(A) Proficiency of Teacher  
(B) Selection of proper method, congruent to the unit  
(C) Age level  
(D) Mental level
- (45) Any action that is derived from internal motivation and different from temptation is called \_\_\_\_\_.  
(A) Improper (B) Motivation  
(C) Eligibility (D) Distress
- (46) Classroom behaviour generally observes total \_\_\_\_\_ types of interactions.  
(A) Five (B) Two  
(C) Three (D) One
- (47) Bakum developed an evaluation process to measure \_\_\_\_\_ development of student.  
(A) Physical (B) Mental  
(C) Holistic (D) Social
- (48) \_\_\_\_\_ has released an education from the bandage of Time, Collection and number.  
(A) Internet (B) Technology  
(C) Website (D) Open University
- (49) The research that scientifically studies the daily problems of the school is called, \_\_\_\_\_ research.  
(A) Pragmatic (B) Action  
(C) Conditioning (D) Visiting
- (50) To find out the mid-point of the given group, \_\_\_\_\_ is calculated  
(A) Median (B) Mode  
(C) Mean (D) Any of the above
- (51) \_\_\_\_\_ is also known as Skinnerian Instruction.  
(A) Branchial Instruction (B) Linear Instruction  
(C) Mathematical Instruction (D) All of the above

(52) Ned Flanders' Interaction analysis categories comprises Ten main categories, out of that three are..

(i) Teacher's Talk

(ii) Pupil's Talk

(iii) Silence

Which of the following shows the correct order?

(A) (i) 7 (ii) 1 (iii) 2

(B) (i) 4 (ii) 4 (iii) 2

(C) (i) 6 (ii) 3 (iii) 1

(D) (i) 7 (ii) 2 (iii) 1

(53) \_\_\_\_\_ is a correct formula for calculating Percentile Rate.

(A)  $PR = 100 - \frac{(100R - 50)}{N}$

(B)  $PR = 100 - \frac{(100R - 50)}{N}$

(C)  $PR = 100 - \frac{(50R - 100)}{N}$

(D)  $PR = 1 - \frac{(100R - 50)}{N}$

(54) \_\_\_\_\_ is a correct mean of 6, 9, 10, 12, 16, 17.

(A) 10

(B) 11

(C) 17

(D) 12

(55) "Teacher uses the change in gestures, modulation of voice and hands' movement so that students stay focused" – This is mainly applied in \_\_\_\_\_ skill.

(A) Introductory

(B) Illustration

(C) Learning aids Experiment Skill

(D) Stimulus change

(56) \_\_\_\_\_ will replace the (?)

3000, 1500, 500, 125, (?)

(A) 100

(B) 50

(C) 25

(D) 20

(57) 'A' is the sister of 'B'. 'C' is the mother of 'B'. 'D' is the father of 'C'. Then D is the \_\_\_\_\_ of A.

(A) Maternal Uncle (Mama)

(B) Father

(C) Maternal Uncle (Maasa)

(D) Maternal Grandfather

(58) \_\_\_\_\_ among the following cannot be framed by using the letter of word

“INDEPENDENCE”

(A) NICE

(B) PINE

(C) PENDING

(D) INDEED

(59) Kavya begins to walk to the south from point A. She turns left after walking 30 metres. Then she walks 40 metres straight and reaches the point ‘B’. Now find the distance between ‘A’ and ‘B’.

(A) 50 metres

(B) 35 metres

(C) 70 metres

(D) 120 metres

(60) If  $B=2$ ,  $BAG=10$  then find the value of  $BOX$ .

(A) 11

(B) 12

(C) 41

(D) 42

(61) Find the correct odd one from the following.

(A) DEGJ

(B) MNPS

(C) PQTX

(D) TUWZ

(62) Five friends are sitting in a line, A is sitting right to B, but not sitting the first. C is sitting left to D. If B is sitting right to E then who is exactly in the middle?

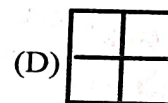
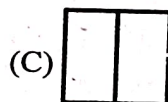
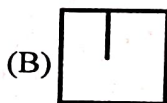
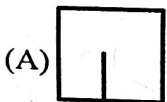

(A) A

(B) B

(C) D

(D) E

(63) Figure is given. \_\_\_\_\_ among the option correctly replaces (?).



(64) 34, 18, 10, 6, 4, \_\_\_\_\_.

(A) 0

(B) 1

(C) 2

(D) 3

(65) If DOG is coded as '4157' Then LION will be \_\_\_\_\_.

(A) 1271514

(B) 1291514

(C) 1291312

(D) 1181514

(66) There are total 65 students in a line. A stands 36th from the left, B stands 36th from the right then total \_\_\_\_\_ students must be standing between both A and B.

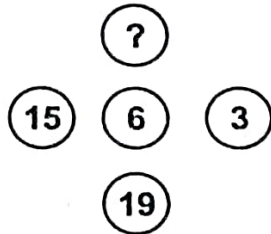
(A) 9

(B) 13

(C) 15

(D) 11

(67) \_\_\_\_\_ will replace the (?)



(A) 91

(B) 610

(C) 691

(D) 587

(68) Thermometer : Temperature :: Earthquake : \_\_\_\_\_.

(A) Scale

(B) Seismograph

(C) Anemometer

(D) Odometer

(69) The angle formed by the minute and hour hands at 4:00 pm is \_\_\_\_\_.

(A) 120°

(B) 100°

(C) 80°

(D) 60°

(70) \_\_\_\_\_ among the following will stay first if arranged in alphabetical order.

(A) Overbid

(B) Outstanding

(C) Oval

(D) Outstep

(71) કયા વાક્યમાં અવ્યયનો ઉપયોગ થતો નથી ?

(A) તે પાસ થયો કેમ કે તેણે ખૂબ મહેનત કરેલી.

(B) શાબાશ છે એ બહાદૂર જુવાનને !

(C) એ પ્રાણઘાતક અકસ્માતથી તે મરી જાત.

(D) એ ચોરની પેઠે ઘરમાં ધૂસ્યો.

(72) કયું વાક્ય કર્મણિ પ્રયોગમાં નથી ?

(A) તને વિમાન દેખાય છે ?

(B) મેં શીખસિન કર્યું.

(C) મને વાત સમજાય છે.

(D) મારે આસને બેસવું છે.

(73) A સાથે Bનાં સાચાં જોડકાં દર્શાવતો વિકલ્પ કયો છે ?

A

B

(a) લખવાનું આપોને

(i) ભવિષ્યકુંદંત

(b) માગ્યા મેહ વરસે નહીં

(ii) સંબંધક ભૂ.કૃ.

(c) લખી લખીને થાક્યો

(iii) હેત્વર્થ

(d) વાંચવા આવજો

(iv) ભૂતકુંદંત

(A) (a) i, (d) ii, (b) iii, (c) iv

(B) (b) i, (c) ii, (d) iii, (a) iv

(C) (c) i, (b) ii, (d) iii, (a) iv

(D) (a) i, (c) ii, (d) iii, (b) iv

(74) કયા જોડકામાંના શબ્દો એક પ્રકારનો જ સમાસ દર્શાવે છે ?

(A) તપોધન, પાઠ્યેતર

(B) ઘનશ્યામ, કાપુરુષ

(C) કલ્પલતા, શ્રીયુત

(D) શેષશાયી, સ્વચ્છંદ

(75) એ શબ્દ શોધો કે જેનો અર્થ અન્ય કરતાં ભિન્ન છે.

(A) પુંડરિક

(B) પર્યંક

(C) રાજીવ

(D) શતદલ

(76) સાચી જોડણી પસંદ કરો.

(A) હિમસૂતા

(B) હીમસુતા

(C) હીમસૂતા

(D) હિમસુતા

(77) એ, થી, થકી, વડે વગેરે પ્રત્યયો કઈ વિભક્તિમાં આવે છે ?

(A) સંપ્રદાન

(B) અપાદાન

(C) સંબંધ

(D) કરણ

(78) પોતાની વાતને કે વિષયને સ્પષ્ટ કરવાનો પ્રયત્ન કરતા ગદ્યને કયા પ્રકારનું ગદ્ય કહેવામાં આવે છે ?

(A) વાદાત્મક

(B) વિવરણાત્મક

(C) વર્ણનાત્મક

(D) ભાવાત્મક

- (79) તમતમારે, જુદાજુદા, દૂરદૂરથી વગેરે કયા પ્રકારના શબ્દો છે ?  
 (A) નામયોગી શબ્દો (B) સંયુક્ત શબ્દો  
 (C) સામાસિક શબ્દો (D) દ્વિરુક્તિવાળા શબ્દો
- (80) નીચેનામાંથી પરિભાષવાચક વિશેષણ જણાવો.  
 (A) આટલું (B) આવું  
 (C) કડવું (D) પહેલું
- (81) નીચેનામાંથી કયા વિકલ્પમાં તમામ શબ્દોની જોડણી વ્યાકરણની દૃષ્ટિએ સંપૂર્ણ સાચી છે ?  
 (A) શારીરિક, આશીર્વાદ, જિજ્ઞવિષા, સુશ્રુષા  
 (B) શારીરિક, આશીર્વાદ, જિજ્ઞવિષા, શુશ્રૂષા  
 (C) શારીરિક, આશિર્વાદ, જિજ્ઞવિષા, શુશ્રુષા  
 (D) શારીરિક, આશિર્વાદ, જિજ્ઞવીષા, શુશ્રૂષા
- (82) નીચેનામાંથી કયો શબ્દ 'અન્ન'નો પર્યાયવાચી શબ્દ નથી ?  
 (A) હાલ (B) વાજી  
 (C) તોખાર (D) કુંજર
- (83) વાક્યશુદ્ધિના નિયમ અનુસાર નીચેનામાંથી વ્યાકરણની દૃષ્ટિએ શુદ્ધ વાક્ય પસંદ કરો.  
 (A) મેં આજે એક ગાય અને એક બળદને આવતી જોઈ.  
 (B) મેં આજે એક ગાય અને એક બળદ આવતાં જોયાં.  
 (C) મેં આજે એક ગાય અને એક બળદ આવતા જોયો.  
 (D) મેં આજે એક ગાય અને બળદને આવતી જોઈ.
- (84) નીચેનાં વાક્યમાં વ્યાકરણીય રીતે કયો શબ્દપ્રયોગ ખોટો છે ? “તેણે મને સહૃદયતાપૂર્વક આવકાર આપ્યો.”  
 (A) તેણે  
 (B) સહૃદયતાપૂર્વક  
 (C) આવકાર  
 (D) આપ્યો
- (85) લેખનકાર્ય કરતી વખતે વાક્યના અંતે કે વચ્ચે કોઈ વિગત લખવાની બાકી રહી ગઈ હોય, ત્યારે તેને ઉમેરવા માટે કયા ચિહ્નનો ઉપયોગ થાય છે ?  
 (A) લોપચિહ્ન (‘) (B) કાકપદ / હંસપદ (^)  
 (C) લઘુરેખા (-) (D) ફુદડી (\*)

(86) Pair the words with their antonyms.

Words

- (a) lazy
- (b) active
- (c) sharp
- (d) fertile

Antonyms

- (i) diligent
- (ii) blunt
- (iii) inert
- (iv) barren

(A) (c) i, (d) ii, (a) iii, (b) iv

(B) (a) ii, (c) iii, (b) i, (d) iv

(C) (c) ii, (d) i, (b) iii, (a) iv

(D) (a) i, (d) iii, (c) ii, (b) iv

(87) Which word has no suffix.

- (A) Health
- (C) Embrace

- (B) Library
- (D) Marriage

(88) Find out the odd pair.

- (A) proud - pride
- (C) grieve - grief

- (B) bond - bind
- (D) lose - loss

(89) Arrange these sentences in proper order to describe an accident-scene.

- (i) Passengers were told to be ready to quit the ship.
- (ii) Everyone knew there was fire on board.
- (iii) Smoke oozed up between the planks.
- (iv) Flames broke out here and there.
- (v) Most people bore the shock bravely.

(A) iii, ii, v, iv, i

(B) i, ii, iv, iii, v

(C) iv, iii, ii, v, i

(D) iii, iv, ii, i, v

(90) Select the sentence with almost similar meaning to the sentence "At the moment the duck looked exhausted."

(A) The duck looked dreadful

(B) The duck was looking for a place to hide

(C) The duck looked very tired.

(D) The duck seemed unhappy.

(91) Put proper preposition in the blank. He was looking ..... his lost keys.

(A) at

(B) for

(C) after

(D) into

- (92) ..... he finds a job, his family will starve. Fill in the blank with proper word.  
 (A) It (B) Unless (C) As (D) However
- (93) The harder you work, the ..... result you will get.  
 (A) good (B) best  
 (C) better (D) lower
- (94) Select the similar word for Inventory.  
 (A) Summary (B) Schedule  
 (C) Index (D) Questionnaire
- (95) All the crows are black. We ..... find a white crow, put proper adverb to complete the sentence.  
 (A) frequently (B) usually  
 (C) rarely (D) always
- (96) Which expression best conveys the idea ?  
 (A) During the curfew, the streets wearing desolate look.  
 (B) During the curfew, the streets wore a desolate look.  
 (C) During the curfew, the streets have had worn desolate looks  
 (D) During the curfew, the streets has been wearing desolation looks
- (97) What is the correct noun form of the verb 'compel' ?  
 (A) Compelation (B) Compulsion  
 (C) Compulsory (D) Compellment
- (98) Fill in the blank with the correct preposition : "The committee is totally opposed ..... the new proposal."  
 (A) for (B) against  
 (C) to (D) with
- (99) Fill in the blanks with appropriate articles : "He is ..... heir to the throne and ..... honest man."  
 (A) a, a (B) an, a (C) an, an (D) the, a
- (100) Identify the correct verb according to subject-verb Agreement : "Neither the principal nor the teachers ..... present at the meeting yesterday."  
 (A) was (B) were (C) are (D) is

(101) भिन्न अर्थ वाला शब्द पहचानिए।

- (A) मुबाहिस (B) साजिस  
(C) वितर्क (D) विवाद

(102) कबीर के संबंध में गलत विधान कौन-सा है ?

- (A) वे परमानंद के शिष्य थे। (B) कबीर की भाषा सधुक्कड़ी कहलाती है।  
(C) इनका प्रमुख ग्रंथ 'बीजक' है। (D) कबीर का जन्म सन 1398 में हुआ था।

(103) कृति-कृतिकार के संबंध में सही जोड़ पहचानिए

- (A) कृष्ण-भक्ति - नरसिंह महेता (B) जो बीत गई सो बात गई - मन्नू भण्डारी  
(C) अजंता - भगवत शरण उपाध्याय (D) नन्हा सा पौधा - त्रिलोचन

(104) मुहावरा का गलत अर्थ हो, ऐसा विकल्प चुनिए

- (A) पौ बारह होना - लाभ ही लाभ होना (B) पानी फिरना - सब व्यर्थ होना  
(C) निगाह में बाँध लेना - सदैव याद रखना (D) खटिया खड़ी होना - इज्जत बिगड़ना

(105) शब्द समूह और उसके अर्थ के संबंध में सही विकल्प कौन-सा है ?

- (A) उत्तर पश्चिम की दिशा - अग्नि (B) तेल रखने का एक छोटा बर्तन - टिबरी  
(C) पूँजी की रकम - लागत (D) माल खरीदने और बेचने वाला आदमी - मुन्शी

(106) गलत विकल्प चुनिए।

- (A) मीराबाई संत रैदास की शिष्या हैं।  
(B) गोवर्धनराम त्रिपाठी का जन्म गुजरात के अहमदाबाद में हुआ था।  
(C) रामवृक्ष बेनीपुरी गांधीजी के साथ असहयोग आंदोलन में जुड़े थे।  
(D) यशपाल मार्क्सवादी विचारधारा के समर्थक थे।

(107) समानार्थी शब्द की गलत जोड़ ढूँढ़िए।

- (A) उद्भिज - अंडज (B) अहर्निश - रात-दिन  
(C) निर्निमेष - अपलक (D) दुर्ग - किला

(108) 'पाठशाला' शब्द का समास पहचानिए।

- (A) कर्मधारय समास (B) अव्ययीभाव समास  
(C) तत्पुरुष समास (D) बहुव्रीहि समास

- (109) काव्यपंक्ति पूर्ण कीजिए।  
 “बीरव्रती तुम धीर अछोभा ....”
- (A) रिपु कायर कथहिं प्रतापु। (B) गारी देत न पावहु सोभा।  
 (C) व्यर्थ धरहु धनु बान कुठारा। (D) परसु बिलिकु महीपकुमारा।
- (110) व्यावहारिक पत्राचार के संदर्भ में गलत विधान चुनिए।
- (A) मसौदे में प्रेषिती (पानेवाला) के संबंधित संदर्भों का उल्लेख नहीं करना चाहिए।  
 (B) पत्र को तीन वर्गों में बाँटा जा सकता है।  
 (C) स्वनिर्देश में सामान्यतः भवदीय या भवदीया का प्रयोग लिंग अनुसार किया जाता है।  
 (D) सरकारी पत्राचार में मसौदा लेखन महत्वपूर्ण माना जाता है।
- (111) गलत विधान चुनिए।
- (A) निमंत्रण पत्र में सार्वजनिक या सामाजिक निमंत्रणपत्र को उसके प्रकार में समाविष्ट किया है।  
 (B) निमंत्रण पत्र विवाह, जन्मदिन, मुंडन, यज्ञोपवीत संस्कार आदि में भेजे जाते हैं।  
 (C) निमंत्रण पत्र में निमंत्रण करनेवाले व्यक्ति एक से अधिक हो सकते हैं।  
 (D) संबोधन और अभिवादन निमंत्रण पत्र में होना अनिवार्य हैं।
- (112) ‘गुलाब और बुलबुल’ कविता संग्रह किस कवि की रचना है ?
- (A) त्रिलोचन (वासुदेव सिंह) (B) राजेश जोशी  
 (C) सुब्रमण्यम भारती (D) विजय तिवारी
- (113) ‘बापू की कुटिया में’ इकाई में बापू के शैल्फ खानों में कौन-सी किताब का उल्लेख नहीं है ?
- (A) आश्रमभजनावली  
 (B) रामचरितमानस  
 (C) रामायण  
 (D) गीता आणि गीताई
- (114) समास का सही विकल्प पहचानिए।
- (A) जनप्रिय – कर्मधारय समास  
 (B) दशानन – द्विगु समास  
 (C) गाँव-गाँव – अव्ययीभाव समास  
 (D) अपना-पराया - तत्पुरुष समास

(115) विलोम शब्द की गलत जोड़ पहचानिए।

(A) प्रदोष - प्रत्यूष

(B) ज्वारा - भाटा

(C) वाम्मी - मितभाषी

(D) आद्र - कृश

(116) 'चंद्रशेखर आजाद' इकाई के अनुसार सही नहीं है, ऐसा वाक्य पहचानिए।

(A) चंद्रशेखर के लिए दया का दूसरा नाम साहस था।

(B) चंद्रशेखर के लिए क्षमा का दूसरा नाम आपत्ति था।

(C) चंद्रशेखर का मन मक्खन सदृश कोमल था।

(D) चंद्रशेखर की वाणी की शोभा मौन थी।

(117) विजय तिवारी रचित 'गजल' इकाई कहाँ से ली गई है ?

(A) फल खाए शजर

(B) निर्झर

(C) साये में धूप

(D) सूर्य का स्वागत

(118) 'आमरण' समास का कौन-सा भेद है?

(A) तत्पुरुष समास

(B) बहुव्रीहि समास

(C) अव्ययीभाव समास

(D) कर्मधारय समास

(119) लेखक रामवृक्ष बेनीपुरी कुटिया में कहाँ बैठकर पंक्तियाँ लिख रहे थे ?

(A) सिरहाने

(B) पायताने

(C) बीच में

(D) बाहर

(120) 'गुरुपर्व' पाठ के अनुवादक कौन हैं ?

(A) इज़हार अहमद नदीम

(B) खालिद अशरफ

(C) भवानी प्रसाद मिश्र

(D) अनामिका

(121) लेखक श्रीलाल शुक्ल को किस उपन्यास के लिए साहित्य अकादमी पुरस्कार से सम्मनित किया गया?

(A) सूनी घाटी का सूरज

(B) अज्ञातवास

(C) सीमाएँ टूटती हैं

(D) राग दरबारी

(122) इनमें से कौन सा अंग्रेजी साप्ताहिक है जिसके संपादन में कवि सुब्रमण्यम भारती ने सहयोग दिया?

(A) बालभारत

(B) यंग इंडिया

(C) स्वराज

(D) न्यू इंडिया

- (123) 'फर्क' कहानी का मुख्य संदेश क्या है ?
- (A) सीमाएँ बहुत जरूरी हैं  
(B) युद्ध अनिवार्य है  
(C) व्यापार बढ़ाना चाहिए  
(D) मनुष्य भेदभाव मानता है जबकि पशु नहीं
- (124) तुलसीदास ने 'रामचरित मानस' की रचना किस भाषा में की है ?
- (A) अवधी  
(B) ब्रज  
(C) संस्कृत  
(D) खड़ीबोली
- (125) हिंदी में 'आंचलिक कथा' की नींव किसने रखी ?
- (A) प्रेमचन्द  
(B) निराला  
(C) फणीश्वरनाथ 'रेणु'  
(D) महादेवी वर्मा
- (126) त्रिलोचनजी का मूल नाम क्या था ?
- (A) शिवप्रसाद सिंह  
(B) रत्नसिंह  
(C) वासुदेव सिंह  
(D) रामदेव सिंह
- (127) संगीत की ध्वनि से रीझकर अपना शरीर कौन न्यौछावर कर देता है ?
- (A) मनुष्य  
(B) शेर  
(C) मृग  
(D) पक्षी
- (128) 'चारों ओर से घिरा हुआ मैदान' – शब्द समूह के लिए एक शब्द दीजिए
- (A) घाटी  
(B) अहाता  
(C) पर्वत  
(D) खाई
- (129) जिन शब्दों का विग्रह करते समय किसी खास व्यक्ति का बोध होता है, ऐसे शब्दों को \_\_\_\_\_ कहते हैं।
- (A) तत्पुरुष समास  
(B) बहुव्रीहि समास  
(C) कर्मधारय समास  
(D) उपपद समास
- (130) 'Draft' शब्द का सही हिन्दी पारिभाषिक क्या है ?
- (A) प्रारूप  
(B) टिप्पणी  
(C) आदेश  
(D) मसौदा

- (131) चंद्रशेखर आज़ाद को क्या कहते लेखक को चोट लगती है ?  
 (A) वीर (B) स्वर्गीय  
 (C) बहादुर (D) सुंदर
- (132) 'कदम मिलाकर चलना होगा' कविता कौन से प्रकार की है ?  
 (A) शौर्यगीत (B) उर्मिगीत  
 (C) पद्य (D) आह्वानगीत
- (133) प्रगतिशील काव्यधारा के कवि का नाम बताइए  
 (A) अटल बिहारी वाजपेयी (B) रहीम  
 (C) त्रिलोचन (D) सुब्रमण्यम भारती
- (134) लक्ष्मण के कुल में देवता, ब्राह्मण, हरिभक्त और गाय के साथ क्या नहीं होता?  
 (A) इन चारों को मारा जाता था  
 (B) इन चारों को नहीं मारा जाता  
 (C) इन चारों के साथ अन्याय नहीं होता  
 (D) इन चारों पर वीरता नहीं दिखाई जाती
- (135) अजंता गाँव के पास कौन सी नदी है ?  
 (A) गोमती (B) बाघुर  
 (C) सरस्वती (D) गंगा
- (136) 'माही के मूते' और 'लाल तारे' किन के रेखाचित्रों के संग्रह है ?  
 (A) यशपाल (B) राजेश जोशी  
 (C) रामवृक्ष बेनीपुरी (D) श्री लाल शुक्ल
- (137) कवयित्री के अनुसार दुनिया के हर चमत्कार का सृजन कौन करते हैं ?  
 (A) मजदूर, खुरदरे हाथों से (B) वैज्ञानिक, ज्ञान के प्रभाव से  
 (C) राजनेता, नेतृत्व से (D) जादूगर, हाथ की सफाई से
- (138) आज़ाद किन विषयों पर तर्क-वितर्क को 'वाक् विलास' समझते थे?  
 (A) विज्ञान (B) भूगोल  
 (C) कला (D) ईश्वर, धर्म और पाप-पुण्य

- (139) रामवृक्षजीने किसकी आज्ञा पर अपने जीवन के प्रवाह को मोड़ दिया था?
- (A) स्वामी विवेकानंदजी (B) गांधीजी की  
(C) भगत सिंह (D) चंद्रशेखर आज़ाद
- (140) भाई रे गाय तो लूँ? तो दूहे कौन ?
- (A) वस्तु के उपयोग का ज्ञान न होना (B) वस्तु उपयोगी न होना  
(C) वस्तु के उपयोग का ज्ञान कम होना (D) वस्तु ही पसंद न होना
- (141) 'आपका बंटी' प्रसिद्ध उपन्यास के रचयिता कौन हैं?
- (A) फणीश्वरनाथ रेणु (B) उषा प्रियंवदा  
(C) नरेश मेहता (D) मन्नू भण्डारी
- (142) छायावाद की झलक किसकी रचनाओं में नहीं दिखाई देती है ?
- (A) जयशंकर प्रसाद (B) सूर्यकान्त त्रिपाठी  
(C) महादेवी वर्मा (D) नागार्जुन
- (143) 'परमात्मा से यही प्रार्थना है कि आप सदैव बेमुरौवत, उद्वण्ड, कठोर, परंतु धर्मनिष्ठ दारोगा बने रहें।' कथन में बेमुरौवत का अर्थ
- (A) किसी का लिहाज न करने वाला  
(B) सबका लिहाज करने वाला  
(C) किसी की चिंता न करने वाला  
(D) सबकी चिंता करने वाला
- (144) 'जो बीत गई सो बात गई' कविता हरिवंशराय बच्चन के किस काव्यसंग्रह से ली गई है ?
- (A) मधुशाला (B) मधुबाला  
(C) निशा निमंत्रण (D) सतरंगिणी
- (145) आकाशवाणी, दूरदर्शन, विज्ञापन तथा पत्रकारिता आदि में प्रयुक्त होने वाली हिन्दी अर्थात्
- (A) कार्यालयीन हिन्दी (B) तकनीकी हिन्दी  
(C) वाणिज्यिक हिन्दी (D) जनसंचारी हिन्दी
- (146) शब्द-अर्थ की सही जोड़ पहचानिए।
- (A) सतर – छत (B) शहतीर – ख्वाब  
(C) मुनासिब – अनुचित (D) तुहिन – बर्फ

- (147) 'चात्सर्स टाउन से जोहनसबर्ग' किस साहित्यविद्या का अंश है ?  
 (A) आत्मकथा अंश (B) उपन्यास अंश  
 (C) नाट्य अंश (D) कहानी अंश
- (148) देवनागरी लिपि के टाइप सर्वप्रथम कहाँ बने ?  
 (A) यूरोप में (B) अफ्रिका में  
 (C) जापान में (D) जर्मनी में
- (149) परशुराम - लक्ष्मण संवाद पद्यांश 'रामचरित मानस' के किस कांड से लिया गया है ?  
 (A) अरण्य कांड (B) लंका कांड  
 (C) किष्किन्धा कांड (D) बाल कांड
- (150) तद्धव तत्सम की सही जोड़ पहचानिए।  
 (A) आँसू - अश्रु (B) गाँव - गाम  
 (C) पत्थर - पथ्थर (D) हाथ - हस्तिन
- (151) 'रत्नजड़ित' शब्द का समास पहचानिए।  
 (A) कर्मधारय (B) बहुव्रीहि  
 (C) तत्पुरुष (D) अव्ययीभाव
- (152) हिन्दी भाषा में प्रयुक्त 'डाकखाना' शब्द मूलतः किस प्रकार मिश्रित रूप है ?  
 (A) हिन्दी + संस्कृत  
 (B) हिन्दी + अरबी  
 (C) अरबी + फारसी  
 (D) हिन्दी + फारसी
- (153) गोपियों को बाँसुरी किसके जैसी लगती है ?  
 (A) बहन जैसी (B) सौतन जैसी  
 (C) सखी जैसी (D) माता जैसी
- (154) बापू की कुटिया किससे बनी है ?  
 (A) बाँस और लकड़ी से (B) सीमेन्ट और ईंट से  
 (C) गोबर और मिट्टी से (D) मिट्टी और रेती से

- (155) 'कृति एवं कृतिकार' की दृष्टि से सही विकल्प चुनिए
- (A) एक और जन्मदिन – रामदरश मिश्र  
 (B) मनोहरपुरी की सीमा पर – उदय प्रकाश  
 (C) घर – भोलाभाई पटेल  
 (D) कारतूस – दुष्यंत कुमार
- (156) मुद्रण का आविष्कार कहाँ हुआ था ?
- (A) जापान  
 (B) जर्मनी  
 (C) चीन  
 (D) भारत
- (157) गोपाल दास सक्सेना का उपनाम क्या है ?
- (A) बनफूल  
 (B) रेणु  
 (C) नीरज  
 (D) धनपत राय
- (158) 'बिलकुल अनपढ़ होना' कहावत का सही अर्थ बताइए।
- (A) नाम बड़े और दर्शन छोटे  
 (B) काला अक्षर भैंस बराबर  
 (C) सावन सूखे, न भादो हरे  
 (D) दूध का दूध, पानी का पानी
- (159) 'निगाह में बाँध लेना' मुहावरे का अर्थ ..... है.
- (A) नज़र लगाना  
 (B) ईर्ष्या करना  
 (C) आँखों में आना  
 (D) सदा याद रखना
- (160) सरकार और कंपनियों के विभिन्न ऑफिसों के आपसी नेटवर्क को क्या कह सकते हैं?
- (A) इंटरनेट  
 (B) ई-मेल  
 (C) कम्प्यूटर  
 (D) इंटरनेट
- (161) हिन्दी विश्वकोश का निर्माण और प्रकाशन किसने किया?
- (A) भारतेन्दु हरिश्चंद्र  
 (B) हजारी प्रसाद द्विवेदी  
 (C) प्रेमचन्द  
 (D) नगेंद्रनाथ बसु

- (162) जोहनिसबर्ग पहुँचने के लिए एक रात कहाँ रुकना पड़ता है ?
- (A) चार्ल्सटाउन (B) केपटाउन  
(C) स्टैण्डरटन (D) स्प्रेण्डस्टिन
- (163) निम्नलिखित वाक्यों में से अशुद्ध वाक्य बताइए।
- (A) वह विद्वान महिला है। (B) उसने करवट बदली।  
(C) आपके दर्शन हो गए। (D) वह समय का सदुपयोग करता है।
- (164) 'नारीत्व' शब्द का संधि विग्रह कीजिए।
- (A) नारी + तव (B) नारी + त्व  
(C) नारी + त्व (D) नारी + तव्
- (165) दुनियाभर में विश्व पर्यटन दिवस \_\_\_\_\_ को मनाया गया।
- (A) 25 सितम्बर 2001 (B) 21 अक्टूबर 2001  
(C) 27 सितम्बर 2003 (D) 27 अप्रैल 2004
- (166) 'उसके शीतल तुहिन कणों को' पंक्ति में रेखांकित शब्द 'तुहिन' का मतलब क्या होता है ?
- (A) जल (B) तुंग  
(C) निर्मल (D) बर्फ
- (167) इनमें से 'तत्सम शब्द' कौन-सा है ?
- (A) भात (B) हल्दी  
(C) घोटक (D) तुरन्त
- (168) निम्नलिखित इकाई सम्बन्धित सही पात्र नहीं है, ऐसा विकल्प पहचानिए।
- (A) दुःख – जगतु (B) अकेली – हरखु  
(C) नन्हा सा पौधा – गोखले (D) नींव की ईंट हो तुम दीदी – कृष्णा
- (169) निम्नलिखित प्रौद्योगिकी का पूरा नाम के संदर्भ में गलत विकल्प ढूँढ़िए।
- (A) एचटीटीपी – हाइपर टेक्स्ट ट्रान्सफर प्रोटोकॉल  
(B) ई कॉमर्स – इंटरनेट कॉमर्स  
(C) एचटीएमएल – हायपर टेक्स्ट मार्कअप लैंग्वेज  
(D) एसएमएस – शॉर्ट मैसेज सर्विस

- (170) शब्द समूह के लिए एक शब्द का गलत विकल्प कौन-सा है?
- (A) पेट का आगे की ओर बढ़ा हुआ भाग - बेढंगा  
 (B) जो कई पीढ़ियों से चला आता है - पुरतैनी  
 (C) प्रभात का सूर्य - बालारुण  
 (D) हवा न चलने से मालूम होनेवाली गरमी - उमस
- (171) 'रेडियम की आत्मकथा' इकाई के संबंध में सही न हो ऐसा वाक्य पहचानिए।
- (A) रेडियम से निकली दो प्रकार की किरणों को हम खाली आँख नहीं देख सकते।  
 (B) रेडियम की उत्पत्ति 'पीच ब्लेंडी' नामक एक खनिज पदार्थ से हुई है।  
 (C) रेडियम नासूर के रोगियों की चिकित्सा के लिए उपयोगी है।  
 (D) रेडियम के पितामह इुरानियम है।
- (172) काव्यपंक्ति की पूर्ति कीजिए।  
 लघु जीवन लेकर आये हैं, .....।
- (A) वह कच्चा पीनेवाला है।  
 (B) मधुघट फूटा ही करते हैं।  
 (C) कब रोता है चिल्लाता है।  
 (D) प्याले टूटा ही करते हैं।
- (173) 'बाढ़ की संभावनाएँ' काव्य में किस पेड़ की बात है ?
- (A) आम  
 (B) चीड़  
 (C) पीपल  
 (D) नीम
- (174) 'सम्प्रदान कारक' का उपयोग हुआ हो, ऐसा वाक्य ढूँढ़िए।
- (A) महेश ने कुल्हाड़ी से उसे मारा।  
 (B) नीरज के लिए साइकिल लाया हूँ।  
 (C) वर्मा जी मकान से गिर पड़े।  
 (D) वह रेल की छत पर बैठा था।
- (175) निम्नलिखित वाक्यों में से मिश्रवाक्य को पहचानिए।
- (A) रात होने पर अंधेरा छा गया।  
 (B) उसने जो माँगा था, इसे मिल गया।  
 (C) अध्यापक के चले जाने पर लड़के कूदने लगे।  
 (D) रमेश ने मुझे देखा और घबरा गया।

- (176) 'भ्रमितपथिक' किसकी प्रमुख रचना है ?  
 (A) रामवृक्ष बेनीपुरी (B) लक्ष्मीनारायण लाल  
 (C) यशपाल (D) सद्गुरु शरण अवस्थी
- (177) 'किसी चमकदार लहर की उछाहमें छुपते' इस पंक्ति में रेखांकित शब्द उछाह का अर्थ क्या है ?  
 (A) पेड़ (B) पानी  
 (C) समुद्र (D) उत्साह
- (178) 'राजनीतिक' शब्द में कौन-सा प्रत्यय है ?  
 (A) इक (B) तिक  
 (C) क (D) नीतिक
- (179) गौरे अंग्रेज द्वारा किए गए अमानुषिक व्यवहार का वर्णन गांधीजी ने किस कृति में किया है ?  
 (A) सर्वोदय (B) मंगलप्रभात  
 (C) सत्य के प्रयोग (D) नवजीवन
- (180) 'सोमाबुआ' किस कहानी का प्रमुख अमर पात्र है ?  
 (A) त्रिशंकु (B) मैं हार गई  
 (C) अकेली (D) वापसी
- (181) "अधिगम (सीखना) अनुभव के परिणामस्वरूप व्यवहार में परिवर्तन द्वारा व्यक्त होता है।" - यह परिभाषा किस विद्वान ने दी है ?  
 (A) गेट्स (B) फ्रोनबैक  
 (C) डॉ. भोलानाथ तिवारी (D) डॉ. देवेन्द्रनाथ शर्मा
- (182) एक शिक्षक शाहजहाँ के विषय में पढ़ाते समय ताजमहल से शुरु करता है। शिक्षक ने इस प्रक्रिया में कौन से शिक्षण सूत्र का उपयोग किया ?  
 (A) सरल से जटिल की ओर (B) मूर्त से अमूर्त की ओर  
 (C) विशेष से सामान्य की ओर (D) ज्ञात से अज्ञात की ओर
- (183) 'शिक्षक नये शब्दों की संरचना कर सकेगा।' यह अपेक्षित परिवर्तन किस उद्देश्य आधारित है ?  
 (A) ज्ञानात्मक उद्देश्य (B) बोधात्मक उद्देश्य  
 (C) प्रयोजनात्मक उद्देश्य (D) मूल्यांकनात्मक उद्देश्य

- (184) पारदर्शी कागज पर चित्र बनाकर कक्षाकक्ष में प्रस्तुत करने हेतु शिक्षक किस यांत्रिक उपकरण का उपयोग कर सकता है ?
- (A) ओवरहेड प्रोजेक्टर (B) कम्प्यूटर  
(C) रेखाचित्र (D) प्रोजेक्ट
- (185) वाक्य में लिंग, वचन, पुरुष, कारक, काल आदि की दृष्टि से पदों की पारस्परिक संगति के बारे में शिक्षार्थियों को समझाने हेतु शिक्षक किसके बारे में संकल्पना स्पष्ट करेंगे ?
- (A) अन्विति (B) अनुतान  
(C) बलाघात (D) वाक्यभेद
- (186) निम्न में से पठन-पक्रिया का अन्तिम सोपान कौन-सा है ?
- (A) प्रत्यभिज्ञान (B) अर्थग्रहण  
(C) मूल्यांकन (D) अनुप्रयोग
- (187) कक्षाध्यापन में निगमन पद्धति के विनियोग का तीसरा सोपान पहचानिए।
- (A) नियम या परिभाषा (B) उदाहरणों की प्रस्तुति  
(C) निष्कर्ष (D) परीक्षण
- (188) भाषा शिक्षण की 'परोक्ष पद्धति' के बारे में कौन-सा विधान उचित नहीं है ?
- (A) इस पद्धति से पढ़ानेवाला शिक्षक व्याकरण शिक्षण पर जोर देता है।  
(B) यह अनुवाद को विशेष महत्व देती है।  
(C) भाषा की संरचना सिखाने की उत्तम पद्धति है।  
(D) वाचन तथा लेखन पर जोर दिया जाता है।
- (189) गहन पठन का मुख्य उद्देश्य क्या है ?
- (A) तीव्र गति से पठन का अभ्यास  
(B) भाषा, भाव, विचार का विश्लेषण  
(C) ध्वनि, शब्द, वाक्य रचना का विश्लेषण  
(D) रस, छंद, अलंकार का अध्ययन
- (190) इनमें से कौन-सी सामग्री दृश्य-श्राव्य सामग्री है ?
- (A) रेडियो (B) फिल्म स्ट्रिप्स  
(C) एपिडायस्कोप (D) मोबाइल

- (191) इनमें से कौन-सा उद्देश्य उपचारात्मक शिक्षण का उद्देश्य नहीं है ?
- (A) अध्येताओं की सिद्धि की जाँच करना  
 (B) प्राप्त ज्ञान में कमियों का निराकरण करना  
 (C) समुचित दिशा में विकास का मार्ग प्रशस्त करना  
 (D) समाज में स्वीकृत आदतों का परिमार्जन करना
- (192) निम्न में से कौन-सा सोपान प्रकल्प विधि का प्रथम सोपान है ?
- (A) परिस्थिति का निर्माण  
 (B) प्रकल्प का चुनाव  
 (C) आयोजन  
 (D) मूल्यांकन
- (193) "हम जितना ज्ञान प्राप्त करते हैं उसकी 25 प्रतिशत संकल्पनाएँ श्रवण अनुभव पर आधार रखती हैं।" ऐसा किसने कहा है?
- (A) प्रो. एफ. एल. बिलोझ  
 (B) जोर्जसन  
 (C) बेकन  
 (D) प्रो. जे. जे. वेबर
- (194) शिक्षाशास्त्रियों ने सामान्यतः मौनवाचन के जो प्रकार माने हैं, इन प्रकारों में निम्न में से कौन-सा प्रकार नहीं है?
- (A) सिंहावलोकन  
 (B) द्रुत वाचन  
 (C) विहंगम दृष्टि  
 (D) सामूहिक वाचन
- (195) प्राचीन काव्यों को पढ़ाने की सर्वोत्तम प्रणाली कौन-सी है, जिसका उपयोग उच्च कक्षाओं में ज्यादा मात्रा में होता है ?
- (A) व्यास प्रणाली  
 (B) शब्दार्थ कथन प्रणाली  
 (C) व्याख्या प्रणाली  
 (D) तुलना प्रणाली
- (196) 'त्याग' शब्द का अर्थ सिखाने के लिए सब-से अच्छा तरीका हो, उसे पहचानिए।
- (A) संधि विग्रह करके  
 (B) कहानी-प्रसंग व उदाहरण द्वारा  
 (C) शब्दकोश का प्रयोग करके  
 (D) व्युत्पत्ति द्वारा
- (197) अधिगम-शिक्षण प्रक्रिया के प्रमुख घटकों में किस घटक का समावेश नहीं होता है ?
- (A) अध्येता  
 (B) शैक्षिक आयोजन  
 (C) पाठ्य सामग्री  
 (D) शिक्षण विधि

(198) निम्नलिखित में से कौन-सा कथन सही है ?

- (A) बालकों की पठन अभिरुचि बालिकाओं की अपेक्षा अधिक विकसित होती है।
- (B) पठन-प्रेम शिक्षक, शिक्षार्थी की पठन अभिरुचि के विकास में अधिक सहायक होता है।
- (C) बच्चों की पठन रुचि का विकास उनके माता-पिता पर निर्भर है।
- (D) सभी विद्यालयों के पुस्तकालय शिक्षार्थियों की पठन अभिरुचि के विकास के लिए उपयुक्त सुविधा प्रदान करते हैं।

(199) जीवन-चरित्र, दृश्य, आत्मकथा लेखन में किस विधि का उपयोग अधिक होता है ?

- (A) उद्धोदन विधि
- (B) रूपरेखा विधि
- (C) मंत्रणा विधि
- (D) परिचर्चा विधि

(200) अच्छे प्रश्न का लक्षण न हो ऐसा विकल्प ढूँढ़िए।

- (A) प्रश्न हाँ या ना में उत्तर देने वाला नहीं होना चाहिए।
- (B) प्रश्न छोटा तथा स्पष्ट होना चाहिए।
- (C) प्रश्न एक से अधिक विचार की पृच्छा करनेवाला होना चाहिए।
- (D) प्रश्न पाठ्य सामग्री से सम्बन्धित होना चाहिए।

